
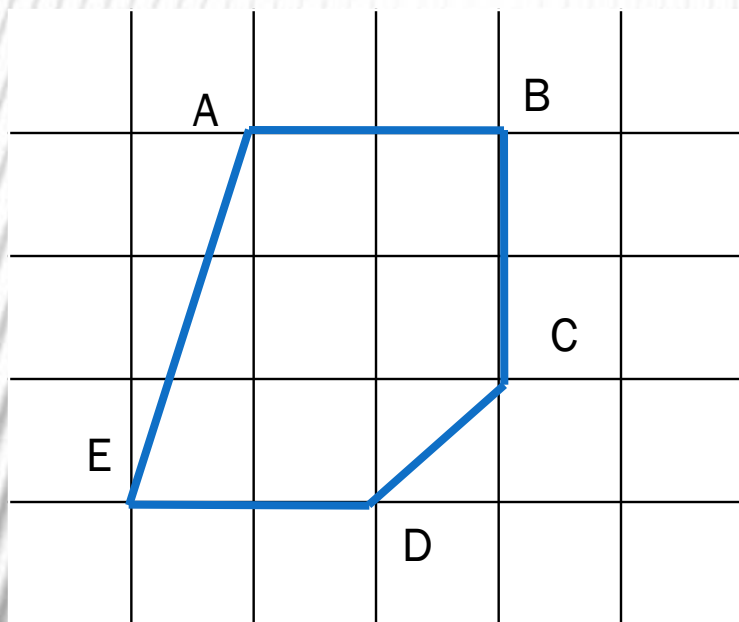


# Запись сложения столбиком. Закрепление

Урок математики в начальной школе  
ГБОУ СОШ №10, 2 класс



Вершин - 5  
Сторон - 5  
Углов - 5

5	0	4
2	3	4
2	6	1



«МОЛОДЦЫ!  
Здорово справились  
с устным счётом!»

<b>62</b>	+	<b>7</b>			-	<b>4</b>			-	<b>70</b>
		↓		↑		↓		↑		↓
			-	<b>40</b>			+	<b>50</b>		<b>5</b>

# Запись сложения столбиком

$$\begin{array}{r} 43 \\ + 17 \\ \hline 47 \end{array}$$
$$\begin{array}{r} 35 \\ + 44 \\ \hline 78 \end{array}$$
$$\begin{array}{r} + 57 \\ 34 \\ \hline 39 \end{array}$$



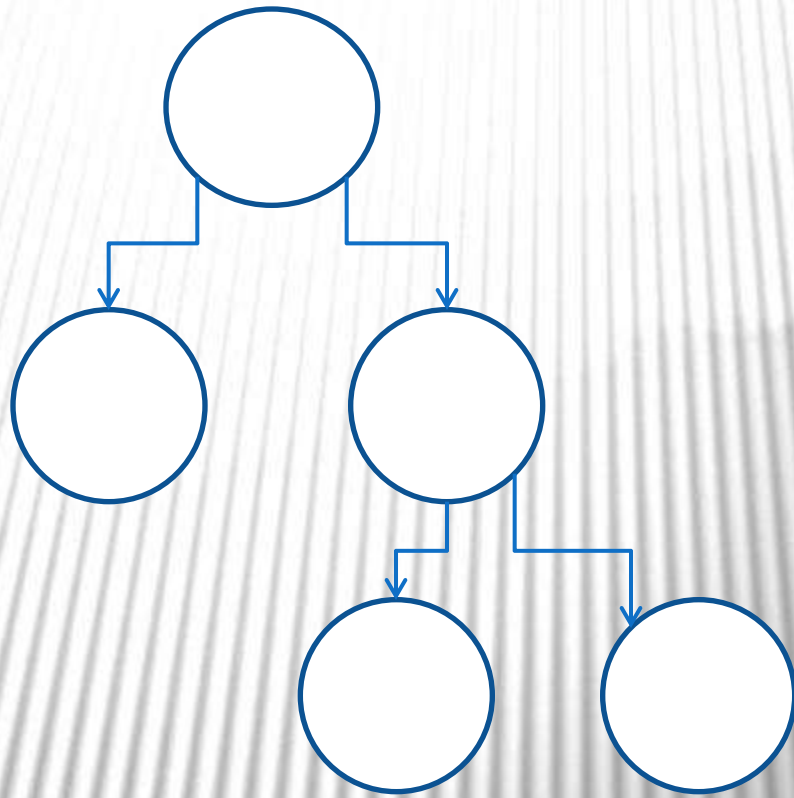


Сколько костяшек на первых счётах?

На сколько больше костяшек на первых счётах, чем на вторых?

Сколько костяшек на первых и вторых счётах вместе?

Сколько костяшек на третьих счётах?




## Задача

1 сч. -

2 сч. -

3 сч. -







УМНИЧКИ!